



**4 . sınıftan**

**5 . sınıfa**

**Geçen Öğrenciler İçin  
Seçme Sınavı**

**Adı:**  
**Soyadı:**  
**Sınıfı:**

**Yanlış cevap sayısı,  
doğru cevap sayısını etkilemeyecektir!**



## TÜRKÇE TESTİ

1. Bu testte 20 soru vardır.

2. Cevaplarınızı, cevap kâğıdının Türkçe Testi için ayrılan kısmına işaretleyiniz.

1. Aşağıdakilerin hangisinde patlamak sözcüğü mecaz anlamıyla kullanılmıştır?

- A) Çocuğun elindeki kırmızı balon patladı.
- B) Yapacak bir şey bulamayınca sıkıntıdan patladım.
- C) Dağda yol açabilmek için dinamit patlatıyorlar.
- D) Bahar gelince ağaçların tomurcukları patladı.

2. "Ağaca dayanma, kurur; insana güvenme, ölür." atasözü, aşağıdakilerden hangisini öğütlemektedir?

- A) Yardımlaşmayı
- B) Hoşgörülü olmayı
- C) Kendine güvenmeyi
- D) Saygılı olmayı

3. Aşağıdaki cümlelerin hangisinde altı çizgili sözcük, "koşul" sözcüğünün eş anlamlısıdır?

- A) Benimle gelmen için bir şartım var.
- B) Karşılaştığım duruma göre fikrim değişir.
- C) Biraz daha yalın konuşursan, seni anlarım.
- D) Her etkiye bir tepki veriyor.

4. Aşağıdaki cümlelerin hangisinde zıt anlamlı sözcükler bir arada kullanılmamıştır?

- A) Bir gülüyor bir ağlıyor anı, anına uymuyor.
- B) Oturup kalkmaktan belim ağrımaya başladı.
- C) Sonuna kadar düşüncelerini desteklemeye kararlıyım.
- D) Uzun lafın kisası artık burada yaşamayacağım.

5. I. kitapların niteliğine  
II. gelişmişliği  
III. bir ülkenin  
IV. okuduğu  
V. insanların  
VI. bağlıdır

Numaralanmış ifadelerden anlamlı ve kurallı bir cümle oluşturulduğunda doğru sıralama aşağıdakilerden hangisidir?

- A) III - II - V - IV - I - VI
- B) III - V - II - I - IV - VI
- C) I - III - V - IV - II - VI
- D) I - V - II - III - IV - VI

**6. Aşağıdaki cümlelerin hangisinde benzetme yapılmıştır?**

- A) Uyandığım gibi telefona sarılıp seni aradım.  
 B) Biraz geç kalacakmışız gibi geliyor bana.  
 C) Çantasını aldığı gibi evden çıkıp gitti.  
 D) Çalı gibi olmuş sakallarını kesmesi gerekiyordu.

**7. Aşağıdaki cümlelerden bir paragraf oluşturulursa, hangisi bu paragrafın ilk cümlesi olur?**

- A) Onlar keşfedilip sahip çıkmayı bekliyorlar.  
 B) Bunu, aklımızdan hiçbir zaman çıkartmamalıyız.  
 C) Vatanımızın her köşesine tarihimizden bir parça saklanmıştır.  
 D) Çünkü tarihimiz bizi bugünlere getirdi.

- 8.** Kırmızı balık gerçekten çok güçlü. Durmak dinlenmek bilmeden yüzüp duruyor. O hâliyle onu kafese kapatılmış kuşa benzetiyorum. Akvaryumun ona küçük geldiğini düşünüyorum. Kocaman denizde özgürce yüzerken kim bilir nasıl mutlu olurdu.

**Paragraftan aşağıdaki düşüncelerin hangisi çıkarılamaz?**

- A) Balığın çok hareketli olduğu  
 B) Akvaryumun küçük geldiği  
 C) Kırmızı balığın çok güçlü olduğu  
 D) Balıkların akvaryumda daha mutlu olduğu

- 9.** (I) İnsanlar her zaman, doğanın kendilerine vermiş olduğu güzellikleri daha da güzelleştirmeye çalışmışlar. (II) Makyaj yapmak da böyle bir eğilimin sonucu olsa gerek. (III) Etraflarındaki her şeyi daha güzel yapmak için çaba sarf etmiştir insanlar. (IV) Söz gelimi eski Mısır'da hem erkekler hem kadınlar makyaj yaparlarmış. (V) Mısırlılar, gözlerinin çevresine siyah boyalar sürer ve dudaklarını boyarlarmış.

**Numaralanmış cümlelerden hangisi anlatımın akışını bozmaktadır?**

- A) II      B) III      C) IV      D) V

- 10.** Ne kadar da güzeldi! Ceylan gibi ürkek bakışlı, gül yanaklı bir kızdı. Öyle bir ışığı vardı ki geceleyin yolunuzu aydınlatan aydı sanki.

**Bu parçadaki kişi, aşağıdakilerden hangisine benzetilmemiştir?**

- A) Ay'a      B) Güle  
 C) Ceylana      D) Geceye

11. I. Yazarın son yapıtı, dil açısından daha başarılıydı.  
II. Buradaki sandalyelerin tamamı mavidir.  
III. Arkadaşlarıyla okulun bahçesinde top oynuyor.  
IV. Geçen aya göre biraz fazla zayıflamışsın.

**Numaralanmış cümlelerin hangilerinde karşılaştırma yapılmıştır?**

- A) I ve II  
B) I ve IV  
C) II ve III  
D) III ve IV

12. Aşağıdakilerin hangisinde noktalama ile ilgili bir yanlışlık yapılmıştır?

- A) Kitabın 15.'inci bölümüne gelmedim.  
B) Film saat 20.15'te başlayacakmış.  
C) Bir tane daha kartona ihtiyacım var.  
D) Stadyumun açılışı 5.12.2028'de yapılmış.

13. Yaşlı adam ( ) ( ) Teleskopla gözlem yapmak ister misiniz ( ) ( ) diye sordu.

**Bu cümlede ( ) ile belirtilen yerlere sırasıyla hangi noktalama işaretleri getirilmelidir?**

- A) (" ) (" ) (') (?)  
B) (,) (!) (?) (" )  
C) (,) (" ) (?) (" )  
D) (" ) (?) (" ) (.)

14. I. Kimi de özellikle yalan söyler.  
II. Bu sözlükte de aradığımı bulamadım.  
III. Çamaşır makineside bozuldu.  
IV. Elektronik eşyaları kullanırken dikkatli olmazsak ne mi olur?

**Numaralanmış cümlelerin hangisinde yazım yanlışı vardır?**

- A) I  
B) II  
C) III  
D) IV

15. Fethiye'ye ilk gittiğimizde dört - beş yaşlarındaydım. O yıllarda benim için Fethiye, deniz demektir. Yıllar sonra buraya taşındığımızda çocukluğumun izlerini arasam da bulamadım. Yine de çok sevdim. Başka bir yerde yaşamayı düşünmüyorum.

**Bu metin türü aşağıdakilerden hangisidir?**

- A) Günlük  
B) Deneme  
C) Hikâye  
D) Anı

16. Gurbette kaldı yarım

Çekmek zor bu acıyı

Dumanlı bakışlarım

Arıyor postacıyı

Ömer Bedrettin UŞAKLI

**Bu şiir için aşağıdakilerden hangisi söylemez?**

- A) Şiirin ana duygusu özlemdir.  
B) Şair, memleketinden mektup beklemektedir.  
C) Çocukluğa duyulan özlem anlatılmıştır.  
D) Şiire "Beklerken" başlığı getirilebilir.

17. Aşağıdakilerden hangisi bir haber yazısından alınmıştır?

- A) Boğaziçi Üniversitesi 1 milyondan fazla gencin katıldığı bir araştırma yaptı.
- B) Bu yazar, geniş ününü mizah ve siyasi yergi yazılarıyla sağlamıştır.
- C) Yumuşak toprağa eliyle dokundu, toprak elinde hoş bir koku bırakmıştı.
- D) Dün gece sarsıntıyla uyandık. Deprem olmuştu ama çok şiddetli değildi.

18.

Gün	Sayfa Sayısı
Pazartesi	30
Salı	15
Çarşamba	25
Perşembe	50

Tabloda Özra'nın bir hafta boyunca hangi gün, kaç sayfa kitap okuduğu verilmiştir.

**Bu tabloya göre aşağıdakilerden hangisi söylenemez?**

- A) En fazla Perşembe günü okumuştur.
- B) Haftada iki gün kitap okumamaktadır.
- C) En az okuduğu gün salıdır.
- D) Salı ve çarşamba günü okuduğu toplam sayfa sayısı pazartesiden fazladır.

19. Aşağıdakilerden hangisi bir ürünün ütülenmeyeceğini göstermektedir?

A)



B)



C)



D)



20. "tek körekli, dört tekerlekli, bir çift at tarafından çekilen binek arabası."

**Yukarıda anlamı verilen sözcük aşağıdakilerin hangisinde kullanılmıştır?**

- A) Eşyalarını bir faytona yükleyip tren garına gittiler.
- B) Cepheye kağnılarla mermi taşıdı kahraman kadınlarımız.
- C) Kızaklar arazinin eğimi nedeniyle karda hızla kayıyordu.
- D) Tarlayı sürmek için saban kullanıyorlardı.

## MATEMATİK TESTİ

1. Bu testte 20 soru vardır.

2. Cevaplarınızı, cevap kâğıdının Matematik Testi için ayrılan kısmına işaretleyiniz.

1. 3800'den başlayarak ileriye doğru yüzer ritmik sayıldığında söylenen 7. sayı kaçtır?

- A) 4300                      B) 4400  
C) 4500                      D) 4600

2.

$$\begin{array}{r} 5103 \\ KLMN \\ + 1962 \\ \hline 10000 \end{array}$$

Verilen toplama işlemine göre KLMN doğal sayısı için aşağıdakilerden hangisi yanlıştır?

- A) Rakamları birbirinden farklıdır.  
B) En yakın onluğa yuvarlandığında 2940 olur.  
C) Yüzler basamağındaki rakamı en büyüktür.  
D) Bu rakamlarla yazılabilen en büyük doğal sayıdır.

3. Dört basamaklı en büyük doğal sayı ile üç basamaklı rakamları farklı en küçük doğal sayının farkı kaçtır?

- A) 9899                      B) 9012  
C) 9897                      D) 900

4. Mesut Bey, Meral Hanım'dan 28 yaş, Meral Hanım ise Melih'ten 19 yaş büyüktür.

**Melih 2007 yılında doğduğuna göre Mesut Bey kaç yılında doğmuştur?**

- A) 1960                      B) 1958  
C) 1957                      D) 1956

5. Satışa çıkarılan konser biletlerinden pazartesi günü 1233 tane satılmıştır. Salı günü pazartesi gününden 579 bilet fazla, çarşamba günü salı gününden 138 bilet fazla satılmıştır.

**Üç gün boyunca kaç bilet satılmıştır?**

- A) 4995                      B) 4985  
C) 4975                      D) 4965

6. 1728 yumurta, her biri 6 yumurta alan kutulara konulacaktır. Bu kutular her biri 36 kutu alan kolilere yerleştirilecektir.

**Buna göre kaç koli gereklidir?**

- A) 10                      B) 9                      C) 8                      D) 7

7.

$$\blacksquare \times 22 = 770$$

$$770 \div \star = 77$$

Yukarıdaki eşitliklere göre  $\blacksquare - \star$  işleminin sonucu kaçtır?

- A) 25      B) 30      C) 35      D) 45

8. Bir havuzdaki musluklardan biri dakikada 18 L, diğeri 20 L su doldurmaktadır. Dipteki bir musluk ise dakikada 12 L su boşaltmaktadır.

**Muslukların üçü birlikte açıldıktan 12 dakika sonra havuzda kaç litre su olur?**

- A) 302                      B) 312  
C) 560                      D) 600

9. Aşağıdakilerden hangisinin sonucu farklıdır?

A) 69 sayısının  $\frac{6}{23}$ 'sı

B) 42 sayısının  $\frac{3}{7}$ 'ü

C) 81 sayısının  $\frac{2}{9}$ 'si

D) 120 sayısının  $\frac{3}{10}$ 'ü

10.

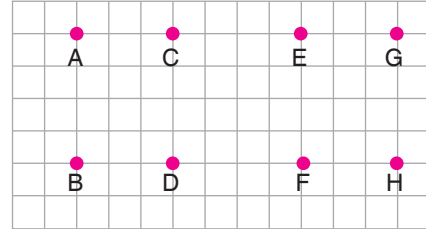


Buse Hanım saat 07.45'te bindiği trenin 14.15'te inmiştir.

**Buse Hanım'ın yolculuk süresi aşağıdakilerden hangisidir?**

- A) 7 saat 45 dakika  
B) 7 saat 30 dakika  
C) 6 saat 30 dakika  
D) 5 saat 30 dakika

11.



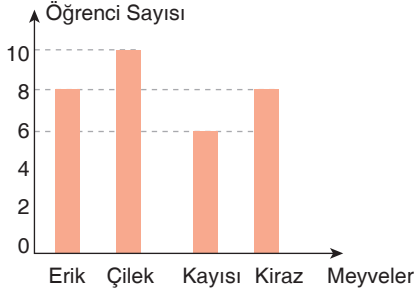
Kareli kâğıtta A, B, C, D, E, F, G ve H noktaları verilmiştir.

**Buna göre köşeleri aşağıdakilerden hangisi olan bir dikdörtgen çizilemez?**

- A) A, B, F ve E noktaları  
B) C, D, H ve G noktaları  
C) A, G, H ve B noktaları  
D) E, F, D ve B noktaları



12. Grafik: En Sevilen Meyveler



Grafik, bir sınıftaki öğrencilerin en sevdiği meyvelere göre sayılarını göstermektedir.

**Bu verilerle aşağıdaki tablolardan hangisi oluşturulabilir?**

A) Tablo: En Sevilen Meyveler

Meyveler	Öğrenci Sayısı
Kiraz	
Çilek	
Kayısı	
Erik	

B) Tablo: En Sevilen Meyveler

Meyveler	Öğrenci Sayısı
Erik	8
Çilek	10
Kiraz	6
Kayısı	10

C) Tablo: En Sevilen Meyveler

Meyveler	Öğrenci Sayısı
Erik	
Çilek	
Kayısı	
Kiraz	

D) Tablo: En Sevilen Meyveler

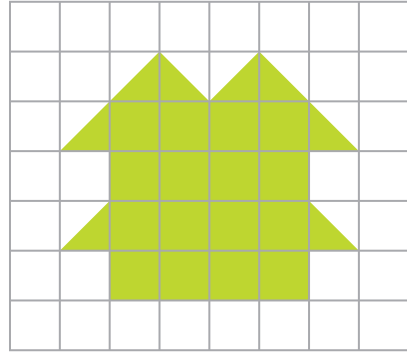
Meyveler	Öğrenci Sayısı
Erik	8
Kayısı	10
Çilek	6
Kiraz	8

13. Neslihan Öğretmen, sınıf etkinliklerinde kullandığı 200 adet kırmızı sayma çubuğunu her bir öğrencide eşit sayıda olacak biçimde, 250 adet beyaz sayma çubuğunu da her bir öğrencide eşit sayıda olacak biçimde paylaşmıştır.

**Sınıf mevcudu 24 olduğuna göre, Neslihan Öğretmen’de kalan çubuk sayısı en az kaçtır?**

- A) 16      B) 18      C) 20      D) 22

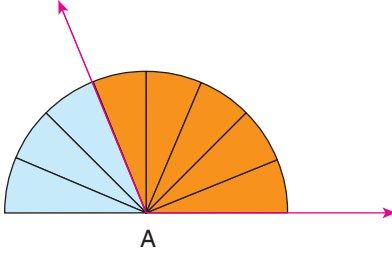
14.



**Kareli kâğıtta verilen şeklin alanı kaç birim karedir?**

- A) 19      B) 20      C) 21      D) 22

15.

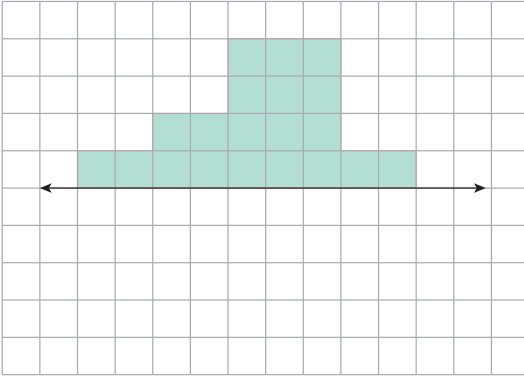


Yukarıdaki A açısının ölçüsü 8 dilimli açı ölçerle ölçülmüş ve 5 dilim olarak bulunmuştur.

**A açısının ölçüsü 16 dilimli açı ölçerle ölçüldüğünde kaç dilim olarak bulunur?**

- A) 8      B) 10      C) 12      D) 20

16.



Kareli kâğıttaki şekil ile bu şeklin verilen doğruya göre simetriği olan şekil birleştiriliyor.

**Oluşan şeklin çevre uzunluğu kaç birim olur?**

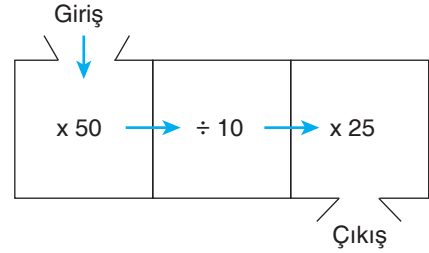
- A) 31      B) 34      C) 37      D) 47

17. Boyu 18 cm olan bir mum yakılıyor. Yakılan mumun boyu, her saat 5 mm kısalıyor,

**Buna göre mumun boyu yakıldıktan kaç saat sonra 10 cm olur?**

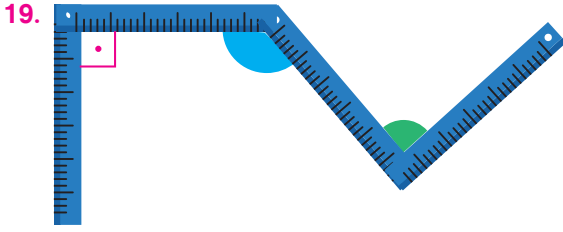
- A) 8      B) 12      C) 16      D) 20

18.





**Yukarıdaki işlem şemasına giren 60 sayısı, şemadan kaç olarak çıkar?**

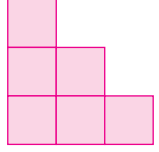
- A) 750      B) 1250  
C) 6500      D) 7500

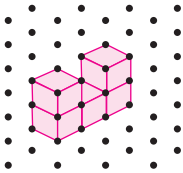
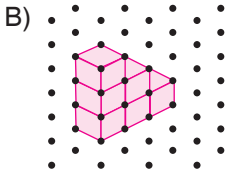
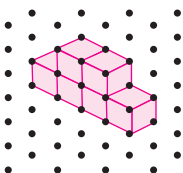
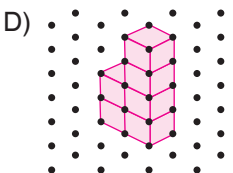


Görseldeki gibi duran katlanabilir metrenin üzerinde belirtilen açıların çeşitleri hangi seçenekte doğru verilmiştir?

- |    |   |   |   |
|----|---|---|---|
|    |  |  |  |
| A) | Dik açı   | Dar açı   | Geniş açı   |
| B) | Dar açı   | Geniş açı   | Dik açı   |
| C) | Geniş açı   | Dik açı   | Dar açı   |
| D) | Dik açı   | Geniş açı   | Dar açı   |

20. Aşağıdaki küplerle oluşturulan şekillerden hangisinin bir yönden görünüşü yandaki gibidir?



- A) 
- B) 
- C) 
- D) 

Matematik Testi Bitti.  
Din Kültürü ve Ahlak Bilgisi  
Testine Geçiniz.

## DİN KÜLTÜRÜ VE AHLAK BİLGİSİ TESTİ

1. Bu testte 20 soru vardır.

2. Cevaplarınızı, cevap kâğıdının Din Kültürü ve Ahlak Bilgisi Testi için ayrılan kısmına işaretleyiniz.

1. Bize Allah Kur'an'da birçok ismi ile kendisini tanıtmıştır. Her bir ismi Allah'ın farklı bir özelliğini bize öğretmektedir. Bu isimleri öğrenmek Allah'ı daha iyi tanımamızı sağlar.

**Bu isimlerin geneli için kullanılan kavram aşağıdakilerden hangisidir?**

- A) Euzu besmele                      B) Esmâü'l hüsna  
C) Salavat-ı şerife                    D) Kelime-i şehadet

2. Peygamberimiz (s.a.v) şöyle söylemiştir; "Canım elinde olan Allah'a yemin ederim ki; sizler iman etmedikçe cennete giremezsiniz. Birbirinizi sevmedikçe de iman etmiş olmazsınız. Yaptığınız takdirde birbirinizi seveceğiniz bir şey söyleyeyim mi?....." (Müslim)

**Hadis-i şerifi doğru bir şekilde tamamlayan ifade aşağıdakilerden hangisidir?**

- A) Aranızda selamı yayınız.  
B) Geceleri çok namaz kılınız.  
C) Az televizyon izleyiniz.  
D) Her perşembe oruç tutunuz.

3. Allah bu dünya hayatında kendisine nasıl kuluk edebileceğimizi bize anlatmış, bu hayatı doğru yaşamının yolu bize açıklanmıştır. Allah'ın çizdiği sınırlar bize yapabileceklerimizi ve yapamayacaklarımızı gösterir. Sınırın bir tarafında hayatımızı mutlu bir şekilde geçirmemiz için yeterli olan şeyler varken, sınırın diğer tarafında hem bu dünyada hem de ahirette bize zarar verecek şeyler vardır. Sınırın bir tarafında ..... diğer tarafında ise ..... bulunmaktadır.

**Metindeki boşluklar hangi kavramlarla doldurulmalıdır?**

- A) helaller - haramlar              B) dünya - ahiret  
C) namaz - zekat                      D) dualar - sureler

4. I. Hasta olan birisi için,  
II. Güzel bir çocuk için,  
III. Gelecekte yapmak istediğimiz iş için,  
IV. İyilik yapan bir kimse için,

**Maddelerde verilen durumlarda söylenecek sözler sırasıyla hangi seçenekte doğru olarak verilmiştir?**

- A) Allah razı olsun - Allah şifa versin - Maşallah - İnşallah  
B) Maşallah - İnşallah - Allah şifa versin - Allah razı olsun  
C) Allah şifa versin - Maşallah - İnşallah - Allah razı olsun  
D) İnşallah - Maşallah - Allah razı olsun - Allah şifa versin



10. Allah tarafından Hz. Muhammed'e (s.a.v.) gönderilen ilk vahiy, Cebrail (a.s.) tarafından Hira Mağarası'nda Peygamberimize ulaşmıştır.

**Cebrail'in (a.s.) getirdiği ilk emir aşağıdakilerden hangisidir?**

- A) Oku!
- B) Namaz kıl!
- C) Sabırlı ol!
- D) İçki içme!

11. Mümtaz öğretmen sınıfında iman esaslarını açıkladı. Ardından tüm sınıf ile iman esaslarını içeren bir duayı hep beraber okuyarak ezberlemeye çalıştılar.

**Sınıfta okunan dua aşağıdakilerden hangisi olabilir?**

- A) Amentü
- B) Sübhaneke
- C) Salli - Barik
- D) Ettahiyatü

12. Peygamberimiz;

- ..... bir insandı; asla yalan söylemezdi.
- ..... bir insandı; asla haksızlık yapmazdı.
- ..... bir insandı; misafirlerine ikram etmeyi severdi.

Onu örnek alan Müslümanların da bu özelliklere sahip olması gerekir.

**Metinde verilen boşluklar sırasıyla hangi kelimeler ile tamamlanmalıdır?**

- A) Dürüst - cömert - adaletli
- B) Adaletli - dürüst - cömert
- C) Dürüst - adaletli - cömert
- D) Cömert - dürüst - adaletli

13. "Komşu komşunun külüne muhtaçtır."

**Aşağıdaki hadislerden hangisi bu atasözünde anlatılan edep çeşidiyle doğrudan ilgili değildir?**

- A) "Ey Ebu zer!" çorba pişirdiğin zaman suyunu çok koy. Komşularını gözet. (Buhari)
- B) "Cebrail bana komşu hakkını o kadar tavsiye etti ki, komşuyu (komşuya) varis kılacak zannettim." (Buhari)
- C) "Allah'a ve ahiret gününe iman eden kimse, komşularına iyilik etsin..." (Buhari)
- D) "Bir müslümanın kardeşine küsüp, üç günden fazla ayrı durması helal değildir." (Müslim)

14. İnsanlar her zaman iyi insanların arasında yetişmez. Bunun en güzel örneği; Hz Muhammed'dir (s.a.v.). İslamiyet öncesinde Araplar arasında adaletsizlik, hırsızlık, yağmacılık, falcılık, içki, kumar gibi kötülükler yaygındı. Ancak Peygamberimiz tüm bu kötülüklerden uzak kalarak, temiz bir insan olmayı başarmıştır.

**Aşağıdakilerden hangisi bu metinden çıkarılacak bir sonuçtur?**

- A) İnsan her zaman topluma uyum sağlar.
- B) İnsan istediği zaman kötü bir ortamda da temiz kalmayı başarabilir.
- C) Kötü bir ortamda yetişen insanlar mutlaka kötü kimseler olurlar.
- D) İyi olmak için iyi bir ortamda büyüme gerekir.

15. Peygamberimiz güvenilirliği ve dürüstlüğü sayesinde ticarete çok başarılı bir duruma geldi. Bu durum sayesinde zengin bir Mekkeli kadının ticaret kervanları ile ilgilenmeye başladı. Ahlakı ve güvenilirliği sayesinde 25 yaşında iken bu kadın ile evlendi ve onunla mutlu bir hayat yaşadı.

**Metinde bahsedilen Mekkeli kadın aşağıdakilerden hangisidir?**

- A) H. Aişe
- B) Hz. Fatıma
- C) Hz. Hatice
- D) H. Halime

16. Peygamberimizin (s.a.v.) gençlik yıllarında Mekke'de haksızlıklar yaygındı. Bu haksızlıkların önüne geçmek için bazı erdemli kişiler bir araya gelerek bir antlaşma yaptılar. Amaçları haksızlıklar karşısında zayıf kimselelere yardım etmektir. Peygamberimiz (s.a.v.) de bu anlaşmaya katıldı ve onlarla beraber hareket etti.

**Bu antlaşmaya verilen isim aşağıdakilerden hangisidir?**

- A) Hilfu'l fudul
- B) Hacerül esved
- C) Medine antlaşması
- D) Ficar savaşları

17. Peygamberimiz Veda Hutbesinde kan davalarının cahiliye dönemine ait kötü adetlerden olduğunu ve yasaklandığını bize söylemiştir.

**Buna göre Veda Hutbesiyle ilgili,**

- I. Temel hak ve hürriyetlerin önemsendiği,
- II. Toplumu ilgilendiren meselelerin görüşülmediği,
- III. Önemli sorunlara yol açan adetlerin yasaklandığı

**ifadelerinden hangisine ulaşılabilir?**

- A) Yalnız I
- B) I ve II
- C) I ve III
- D) I, II ve III

18. Salli ve Barik duaları içinde Peygamberimiz ve ailesine salat, selam eder, ailelerinin mübarek kılınmasını Allah'tan dileriz. Ancak Peygamberimizle birlikte bir peygambere daha ailesiyle birlikte dua eder, selam göndeririz.

**Parçada söz edilen peygamber aşağıdakilerden hangisidir?**

- A) Hz. Musa  
B) Hz. İsa  
C) Hz. İbrahim  
D) Hz. Adem

19. • “Ümmetim kıyamet günü, abdest izlerinden dolayı yüzleri nurlu, elleri ve ayakları nurlu olarak çağrılacaktır. Öyleyse yüzünün nurunu arıtmaya gücü yeten kimse bunu yapsın.”(Müslim)
- “Müminin nuru, beyazlığı ve alımlılığı, abdest suyunun ulaştığı yere kadar ulaşır.” (Müslim)

**Yukarıdaki hadislerden çıkarılabilecek en doğru sonuç aşağıdakilerden hangisidir?**

- A) Abdest almak yüzü beyazlatır.  
B) Abdest almak bedeni maddi kirlere arındırdığı gibi, insanı manevi kirlere de günahlardan da arındırarak temiz olmasını sağlar.  
C) Abdest almak kişiyi manevi yönden rahatlatır.  
D) Abdest almak gücü yetenlerin sık sık yapması gereken bir şeydir.

20. Peygamberimiz (s.a.v.) kendi temizliğine önem verdiği gibi evinin temizliğine de dikkat eder, ev işlerinde zaman zaman ailesine yardım ederdi.

**Aşağıdakilerden hangisi Peygamberimizi örnek alan bir çocuğun davranışı olamaz?**

- A) Sofrayı toplarken anneye yardımcı olmak  
B) Ödevin ardından kitaplarını çantaya koymak  
C) Sabah uyanınca yatağını toparlamak  
D) Oyun oynarken ayakta yiyip içmek



## FEN BİLİMLERİ TESTİ

1. Bu testte 20 soru vardır.

2. Cevaplarınızı, cevap kâğıdının Fen Bilimleri Testi için ayrılan kısmına işaretleyiniz.

1. Kayaçların birbirinden farklı olmasını sağlayan ve yapılarını oluşturan madde aşağıdakilerden hangisidir?

- A) Petrol  
B) Fosil  
C) Mineral  
D) Mücevher


2. Fosiller ile ilgili,

- I. Buldukları bölgede uzun yıllar önce yaşayan canlı türleri hakkında bilgi verirler.  
II. Tüm kayaç türlerinde bulunurlar.  
III. Deniz dipleri oluşabildikleri bölgelerdendir.

**bilgilerinden hangileri doğrudur?**

- A) Yalnız I  
B) I ve III  
C) II ve III  
D) I, II ve III

3.



**Güneş ve dünya şekildeki konumda iken,**

I. K'de öğlemdir.

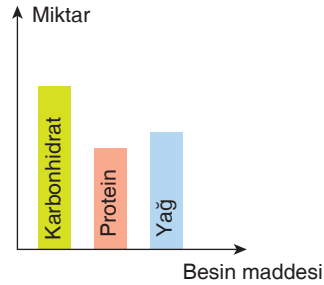
II. L'de gecedir.

III. L'ye güneş ışınları dik gelmektedir.

**yargılarından hangileri doğru olabilir?**

- A) I ve II  
B) I ve III  
C) II ve III  
D) I, II ve III

4.



**İçindeki besin maddelerinin miktarı grafikteki gibi olan bir besin için,**

- I. Fazla enerjiye ihtiyaç duyduğunda kullanılabilir.  
II. Yapıcı ve onarıcı olma özelliği vardır.  
III. Vücudumuzda düzenleyici olarak görev yapan besin grubudur.

**yorumlarından hangileri yapılabilir?**

- A) I ve II  
B) I ve III  
C) II ve III  
D) I, II ve III

5. Göçmen kuşların vücudunda yağlar, hafif olduğu, çok enerji verdiği, vücut sıcaklığını koruduğu ve parçalandığında çok su açığa çıktığı için depolanır.

**Yukarıdaki metne göre,**

- I. Susuz ortamlarda yaşayan hayvanlar yağ depolar.
- II. Yağ depolayan hayvanlar soğuktan korunabilir.
- III. Yağlar, kuşların uçmalarına engel değildir.


**sonuçlarından hangilerine ulaşılabilir?**

- A) I ve II                      B) I ve III  
C) II ve III                    D) I, II ve III

6. Dengeli ve düzenli beslendiğini söyleyen bir kişinin aşağıdakilerden hangisini yapması doğrudur?

- A) Bol vitaminli besinlerle beslenmektedir.  
B) Karbonhidrat ağırlıklı besinlerle beslenmektedir.  
C) Her çeşit besinden yeterli miktarda tüketmektedir.  
D) Protein ağırlıklı besinlerle beslenmektedir.

7.



Bir çubuk mıknatıs, çekiçle vurularak iki parçaya ayrılıyor.

**Buna göre parçalarla ilgili aşağıdakilerden hangisi söylenebilir?**

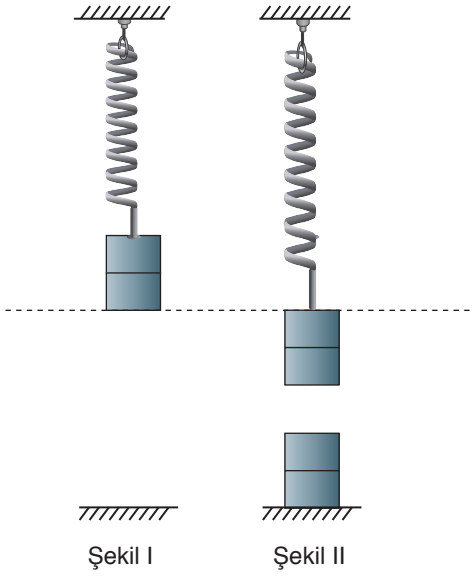
- A) Parçalardan biri N diğeri S kutbu olur.  
B) Mıknatıs özelliğini kaybeder.  
C) Parçanın biri özelliğini kaybeder.  
D) İki kutuplu iki mıknatıs oluşur.

8. I. Durağa yaklaşan otobüs  
II. Dağdan kayakla inen kayakçı  
III. Raketle vurulan top

**Hangi hareketler masadan düşen kalemin hareketiyle aynıdır?**

- A) Yalnız I                      B) Yalnız II  
C) Yalnız III                    D) II ve III

9.



Bir mıknatıs şekil I'deki gibi tavandan yayla asılıyor. Mıknatıs bu konumdayken altında başka bir mıknatıs yerleştiriliyor. Asılı olan mıknatısın son durumu şekil II'deki gibi oluyor.

**Buna göre mıknatısın konumundaki değişim için,**

- I. Mıknatıs ağırlaşmıştır.
- II. Mıknatıslı zıt kutupları karşılıklı yerleşmiştir.
- III. Asılı mıknatısa temas gerektirmeyen kuvvet etki etmiştir.

**İfadelerinden hangileri söylenilebilir?**

- A) Yalnız I                      B) I ve II  
C) II ve III                      D) I ve III

10.

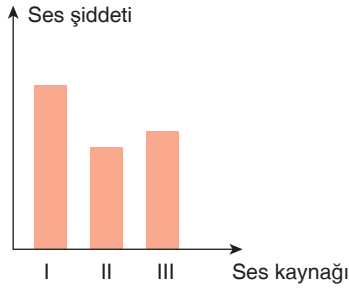
Madde	K	L	M
Özellik			
Saf maddedir.			+
Çözüldür.	+		
Mıknatıslanır.		+	

Tabloda K, L ve M maddelerine ait özellikler (+) ile gösterilmiştir.

**Buna göre K, L ve M maddeleri aşağıdakilerden hangisi olabilir?**

	K	L	M
A)	Hava	Ataş	Saf su
B)	Saf su	İğne	Tuzlu su
C)	Tuz	Taş	Tuzlu su
D)	Tuzlu su	Ataş	Hava

11.



Ses şiddeti yukarıdaki gibi olan 3 ses kaynağı aşağıdakilerden hangisi olabilir?

	I	II	III
A)	Konuşma	Fısıltı	Jet uçağı
B)	Konuşma	Jet uçağı	Fısıltı
C)	Jet uçağı	Konuşma	Fısıltı
D)	Jet uçağı	Fısıltı	Konuşma

12. Göz sağlığı için bulunduğumuz ortamlar uygun şekilde aydınlatılmalıdır.

Uygun aydınlatma için,

- Yapılan işe uygun olarak ortam aydınlatılmalıdır.
- Işık doğru yönden gelmelidir.

Buna göre aşağıdakilerden hangisi doğrudur?

- A) Kitap okurken mum ışığı yeterlidir.  
 B) Televizyon izlerken parlak ışık kullanılmalıdır.  
 C) Yazı yazarken masa lambası tam karşımızda durmalıdır.  
 D) Sağ elle yazarken ışık sol taraftan gelmelidir.

13.



Geri dönüşüm ile ilgili,

- I. Bazı maddelerin tekrar kullanılmasını sağlar.  
 II. Enerji tasarrufu sağlar.  
 III. Daha çok çöp oluşmasını sağlar.

İfadelerinden hangileri doğrudur?

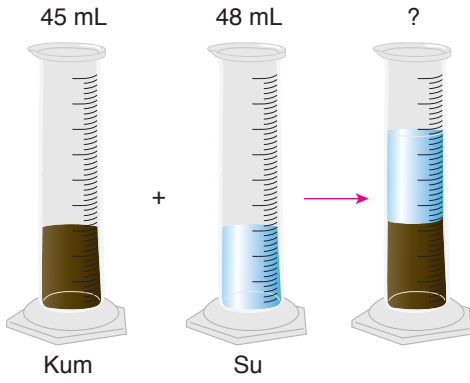
- A) I ve II  
 B) I ve III  
 C) II ve III  
 D) I, II ve III

14. Dünyanın sahip olduğu kaynaklar, başta temiz su olmak üzere hızla tükenmekte ve kirlenmektedir.

Verilen durumu önlemek için aşağıdakilerden hangisi yapılabilir?

- A) Atık sular arıtılarak tekrar kullanılabilir.  
 B) Kanalizasyonlar dere ve nehirlere bağlanabilir.  
 C) Deterjan gibi kimyasal maddelerin kullanımını artırılabilir.  
 D) Çöp ve diğer atıklar denize bırakılabilir.

15.



Demet şekilindeki gibi kuru kumun üzerine su ekleyerek karışım oluşturuyor.

**Kum tanecikleri arasındaki havanın hacmi 8 ml olduğuna göre karışımın toplam hacmi kaç mililitredir?**

- A) 56      B) 85  
C) 93      D) 101

16. Şişirilmekte olan bir balonun hacminin artması havanın hangi özelliği hakkında bilgi vermez?



- A) Yayılabilirliği  
B) Sıkıştırılabilirliği  
C) Akışkan olduğu  
D) Karışım olduğu

17.



**Murat'ın yaşıtlarına göre oldukça kilolu olmasının temel sebebi aşağıdakilerden hangisi olabilir?**

- A) Dengesiz besleniyor olması.  
B) Çok fazla su içiyor olması.  
C) Taze gıdalar tüketiyor olması.  
D) Her tür besinden yeteri kadar tüketiyor olması.

18. Aşağıdaki maddeler ve özellikleri eşleştirilmiştir.

**Hangi maddenin özelliği yanlış verilmiştir?**

- A) Tahta kaşık → suda yüzen madde.  
 B) Cam bilye → suda batan madde.  
 C) Toplu iğne → mıknatıs tarafından çekilen madde.  
 D) Şemsiye → suyu emen madde.

20. Aşağıdakilerden hangisi saf maddedir?



Turşu



Salata



Limonata



Altın

19.



**Yukarıdaki resimde sıcaklığın artması ile kardan adamın şeklinin değişmesi hangi olaya örnek olabilir?**

- A) Erime  
 B) Buharlaştırma  
 C) Donma  
 D) Yoğunlaşma

## SOSYAL BİLGİLER TESTİ

1. Bu testte 20 soru vardır.

2. Cevaplarınızı, cevap kâğıdının Sosyal Bilgiler Testi için ayrılan kısmına işaretleyiniz.

1. Mevlana'ya ait aşağıdaki sözlerden hangisi onun, başkalarının duygu ve düşüncelerine saygısını göstermektedir?

- A) Hoşgörülülükte deniz gibi ol.
- B) İnsanlık, bilimle yükselir.
- C) İyi dostu olanın aynaya ihtiyacı yoktur.
- D) Canında bir cam var, o canı ara.

2. I. Çini  
II. Ebru  
III. Origami  
IV. Oymacılık

Verilenlerden hangisi Türk kültürüne ait bir el sanatı değildir?

- A) I      B) II      C) III      D) IV

3. Bir kişinin "ebe" olduğu, diğerlerinin ebeden gizlenerek oynadığı oyun aşağıdakilerden hangisidir?

- A) Körebe
- B) Saklambaç
- C) Seksek
- D) Mendil kapmaca

4. Aşağıdakilerden hangisi depremde yapılması gerekenler arasında yer alır?

- A) Evdeki eşyalar kurtarılmaya çalışılmalıdır.
- B) Okul, cami gibi yerlere sığınmalıdır.
- C) Binalardan uzak, açık bir alana gidilmelidir.
- D) Deniz kıyısına gidilmelidir.

5. “Güneş ..... yönünden doğar, ..... yönünden batar.” cümlesindeki boşluklara sırasıyla aşağıdakilerden hangisi getirilmelidir?

- A) doğu - batı
- B) batı - doğu
- C) güney - kuzey
- D) kuzey - güney

6. Aşağıdaki gelişmeleri kronolojik olarak sıraladığımızda hangisi ilk sırada yer alır?

- A) Yürümeye başladığımız zaman
- B) Anaokuluna başladığımız tarih
- C) Elde ettiğimiz ilk başarı
- D) Doğduğumuz gün

7.

Olay	Tarih
Mustafa Kemal'in Samsun'a çıkışı ve mücadeleyi başlatması	19 Mayıs 1919
Amasya Genelgesi	22 Haziran 1919
Erzurum Kongresi	23 Temmuz 1919
Sivas Kongresi	4 Eylül 1919
Büyük Millet Meclisi'nin açılışı	23 Nisan 1920

Yukarıda Millî Mücadele ile ilgili bazı olaylar verilmiştir.

**Tabloya göre aşağıdakilerden hangisi söylenemez?**

- A) Millî Mücadele meclisin açılmasıyla son bulmuştur.
- B) Büyük Millet Meclisi genelge ve kongrelerden sonra açılmıştır.
- C) Millî Mücadele Mustafa Kemal'in Samsun'a çıkmasıyla başlamıştır.
- D) Olaylar kronolojik sırayla verilmiştir.

8. Eski eşyalar çok kıymetlidir. Bakır bir kazan, isli bir lamba, yağ kandili ya da bir küp bizi alıp geçmişe götürür. “Bunlarda kim bilir ne hatıralar vardır?” diye düşünür insan. Bu yüzden eski eşyanın manevi değerleri büyüktür.

**Buna göre aşağıdakilerden hangisine ulaşılamaz?**

- A) Eski eşyalar bize geçmişe hatırlatır.
- B) Eski eşyaların değeri büyüktür.
- C) Kazan veya kandili geçmişte kullanılan eşyalardır.
- D) Eski eşyalar günümüzde az bulunmaktadır.



9. Dün tipik kalp rahatsızlığı belirtileri gösteren genç bir bayan hastaya baktım. Kalbini dinlemem gerekiyordu. O anda seslerin katı cisimler aracılığıyla yayıldığını hatırladım. Not defterimi alıp rulo yaptım ve bir ucunu kalbin üzerine koydum. Not defterinin diğer ucunu kulağıma koyduğumda bayanın kalp atışlarını şimdiye kadar duyduğumdan daha net duyunca çok şaşırdım.

**1816'da bu sözleri söyleyen Dr. Laennec'in sözleriyle ilgili aşağıdaki icatların hangisi ilişkilendirilebilir?**

- A) Mikroskop  
B) Röntgen  
C) Stetoskop  
D) Şırınga

10. Teknolojik ürünler insanların istek ve ihtiyaçlarını karşılar ve günlük hayatı kolaylaştırır. Ancak teknoloji doğru kullanılmadığında çok sayıda zararları ortaya çıkabilir.

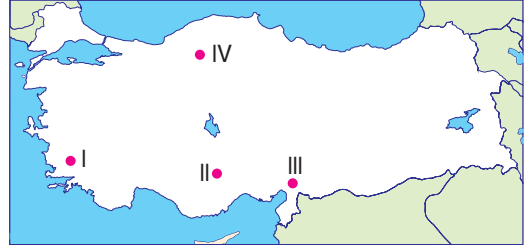
**Verilen bilgiyi,**

- I. Televizyonun hayal gücünü artırması  
II. Uzun süre cep telefonu ile konuşmanın duyma sorunlarına yol açması  
III. Televizyonun sosyalleşmeyi engellemesi

**gibi ifadelerden hangileri örneklendirilir?**

- A) Yalnız I  
B) I ve II  
C) II ve III  
D) I, II ve III

11.



**Harita üzerindeki numaralanmış yerlerle ilgili olarak aşağıdakilerden hangisi söylenemez?**

- A) IV, II'nin kuzeyindedir.  
B) II, III'ün doğusundadır.  
C) III, güneydedir.  
D) IV, I'in kuzeydoğusundadır.

12. **Aşağıdakilerden hangisi fiziki haritaların temel işlevini anlatmaktadır?**

- A) Bir yerin konumunu bulmada kolaylık sağlar.  
B) Yönleri saptamamızda yardımcı olur.  
C) Yer şekillerini yani dağları, ovaları, vadileri belirlememizi sağlar.  
D) Komşu ülkeleri görmemizi sağlar.

13. Ali bir büfeden çikolata almıştır.

**Ali'nin aldığı çikolatanın ambalajında aşağıdaki bilgilerden hangisi yer almaz?**

- A) Son kullanma tarihi
- B) TSE damgası
- C) İçindekiler
- D) Nerede satıldığı

14.

23 Nisan Ulusal Egemenlik ve Çocuk Bayramı

**Verilen kavram ile aşağıdakilerden hangisi arasına bir ilişki vardır?**

- A) Başkentin Ankara olması
- B) TBMM'nin açılması
- C) Cumhuriyetin ilan edilmesi
- D) Mustafa Kemal'in cumhurbaşkanı seçilmesi

15. I. Okul gezilerini düzenler.

II. Doğal afetlerde neler yapılacağını tespit eder.

III. Üyelerinin ve diğer öğrencilerin görüş, seziş, buluş ve ufuklarını geliştirici çalışmalar yapar .

**Çalışmaları verilen sosyal kulüpler aşağıdakilerden hangisidir?**

	I	II	III
A)	İzcilik	Kızılay	Yayın ve İletişim
B)	Meslek Tanıma	Çevre Koruma	İzcilik
C)	Gezi Gözlem	Sivil Savunma	Felsefe
D)	Yeşili Koruma	Spor	Tiyatro

16.

Orta Afrika ülkelerinin bazılarında ekonomik ve coğrafi koşullar nedeniyle her gün yüz binlerce çocuk açlık, sağlık sorunları ile karşı karşıyadır. Bu çocuklar ölüm riski altında yaşamlarını sürdürmektedir.

**Orta Afrika ülkelerinde yaşayan bu çocukların hangi haklarının ihlal edildiği ile ilgili bir bilgiye yer verilmemiştir?**

- A) Sağlık
- B) Yeterli beslenme
- C) Eğitim
- D) Yaşama

17. Aşağıdaki ülke-başkent eşleşmelerinden hangisi yanlıştır?

- A) Yunanistan - Atina
- B) Filistin - Doğu Kudüs
- C) İnan - Kahire
- D) Irak - Bağdat

18.

	Boy	Kilo	Saç rengi
Ali	1,55	50	Siyah
Nisan	1,50	45	Sarı
Barış	1,60	65	Sarı

Tablodaki bilgilere göre aşağıdakilerden hangisi yanlıştır?

- A) Ali, Barış'tan daha uzun ve 15 kg daha fazladır.
- B) Nisan, Barış'tan 10 cm daha kısa ve Ali'den daha zayıftır.
- C) Ali ve Nisan'ın boy, kilo ve saç renkleri birbirinden farklıdır.
- D) Ali, Nisan'dan 5 cm daha uzun ve 5 kg daha fazladır.

19. Yunanlıların İzmir'i işgali ile Batı Cephesi'nde mücadele başladı. Bu cephede Gördesli Makbule, eşi Halil Efe ile bir çatışma sırasında silah arkadaşını korumak için öne atılınca başından vurularak şehit düştü.

Verilen bilgiye göre,

- I. İşgallere karşı tepkinin oluştuğu
- II. Mücadelede kadınların da görev aldığı
- III. Düşmanın yurttan atıldığı

değerlendirmelerinden hangilerine ulaşılabılır?

- A) Yalnız II
- B) I ve II
- C) I ve III
- D) I, II ve III

20.

Dağ yamacında bulunan kar kütesinin hızlı bir biçimde aşağı düşmesidir.

Yer kabuğundaki hareketlere bağlı olarak oluşan sarsıntılardır.

Toprağın verimli üst kısmının yağmur suları ve rüzgâr tarafından aşındırılıp taşınmasıdır.

Tanımları verilen doğal afetlerin doğru sıralanması aşağıdakilerden hangisidir?

- A) Erozyon - Heyelan - Sel
- B) Çığ - Heyelan - Erozyon
- C) Sel - Deprem - Çığ
- D) Çığ - Deprem - Erozyon

Test Bitti.  
Cevaplarınızı Kontrol Ediniz.



2024-2025 EĞİTİM ÖĞRETİM YILI 5.SINIF ÖĞRENCİ SEÇME SINAVI CEVAP ANAHTARI

SORU NO	TÜRKÇE	MATEMATİK	DİN KÜLTÜRÜ	FEN BİLİMLERİ	SOSYAL B.
1	B	C	B	C	A
2	C	D	A	B	C
3	A	C	A	A	B
4	C	A	C	A	C
5	A	A	D	A	A
6	D	C	B	C	D
7	C	A	D	D	A
8	D	B	C	B	D
9	B	D	D	C	C
10	D	C	A	A	C
11	B	D	A	D	B
12	A	A	C	D	C
13	C	B	D	A	D
14	C	B	B	A	B
15	D	B	C	B	C
16	C	B	A	D	C
17	A	C	C	A	C
18	B	D	C	D	A
19	B	D	B	A	B
20	A	B	D	D	D