



5

ŞEHİT AHMET ÖZSOY KIZ ANADOLU İMAM HATİP LİSESİ (ORTAOKUL KISMI) 2020-2021 EĞİTİM-ÖĞRETİM YILI

SINIFLAR GİRİŞ SINAVI

ADI - SOYADI:

T.C. KİMLİK NO:

1. Bu sınav 2020-2021 Eğitim-Öğretim Yılı ŞEHİT AHMET ÖZSOY KIZ ANADOLU İMAM HATİP LİSESİ Ortaokul Kısımına yerleşecek öğrencilerin kavrama düzeylerini ölçmek amacıyla hazırlanan "GİRİŞ SINAVI"dır.
2. Sınav toplam 100 soru ve Türkçe, Matematik, Din Kültürü ve Ahlak Bilgisi, Fen Bilimleri ve Sosyal Bilgiler testlerinden oluşmaktadır. Her test 20 sorudan ibarettir.
3. Soruların cevaplarını Cevap Kağıdında ait olduğu sütuna işaretleyiniz.
4. Cevap Kağıdında, Adı-Soyadı, T.C. Kimlik Numarası ve Öğrenci No. bölümlerini kodlamayı unutmayınız.
5. Sınav süresi 120 dakkadır.

SINAVA BAŞLAMADAN ÖNCE AŞAĞIDAKİ UYARILARI MUTLAKA DİKKATLİCE OKUYUNUZ

1. Sınav kimlik bilgilerinizin doğruluğundan emin olunuz.
2. Sınav başladıktan sonra çevrenizdekilerle konuşmayınız.
3. Soruları cevaplama istediğiniz sorudan başlayabilirsiniz.
4. Cevaplarınızı cevap anahtarındaki ilgili soru numarasını dikkate alarak uygun bölüme kodlayınız.
5. Değiştirmek istediğiniz cevabı cevap anahtarına kodladığınızdan emin olunuz.
6. Cevabını bilmediğiniz sorular üzerinde fazla zaman kaybetmeden diğer sorulara geçiniz. Zaman kalırsa bu sorulara daha sonra dönebilirsiniz.
7. Sınav puanlarınızın hesaplanmasında sadece doğru cevaplarınız dikkate alınacaktır.
8. Cevap anahtarınızı sınav süresince başkalarının görmeyeceği şekilde önünüzde bulundurunuz.
9. Sınav sırasında sözlük, hesap makinası, cep telefonu ve bilgisayarınızın bu özelliklerini kullanmayınız.
10. Sınav süresince yerinizden ayrılmayınız.



1. Irak - tabiat - vatan - ulus

Yukarıdaki sözcüklerden hangisinin eş anlamlısı aşağıda verilmemiştir?

- A) Uzak
B) Millet
C) Doğa
D) Toprak

2. "Çocuk elinde tuttuğu kitabı masaya bıraktı."

Yukarıdaki cümlede "tutmak" kelimesi hangi anlamda kullanılmıştır?

- A) Elde bulundurmak
B) Ele geçirmek, yakalamak
C) Gereğini yapmak, yerine getirmek
D) Hizmetine almak veya kiralamak

3. Neşeli, huzurlu günlerde dostluk kurmak kolaydır. Böyle günlerde çevremizde birçok insan görebiliriz. Zor ve sıkıntılı günlerde dost bulmak ve dost kalmak kolay değildir. Bu zor günlerde biz de arkadaşlarımızı yalnız bırakmamalıyız. Üzüntüsünü paylaşmalı, ona destek olmalıyız. Boşuna dememişler diye.

Yukarıdaki boşluğa aşağıdaki atasözlerinden hangisi getirilmelidir?

- A) Bal tutan parmağını yalar.
B) Ayağını yorganına göre uzat.
C) Sabreyle işine, hayır gelsin başına.
D) Dost kara günde belli olur.

4. Aşağıdaki cümlelerin hangisinde kelime-den ayrı yazılması gereken "ki" vardır?

- A) Duvardaki resimleri kırmadan kutulara yerleştirin.
B) Senin ödevin onunkinden güzel olmuş.
C) Kitabı öyle güzel okuyorduki rahatsız edemedim.
D) Yerdeki oyuncakları ne zaman toplayacaksın?

T
Ü
R
K
Ç
E

T
Ü
R
K
Ç
E

T
Ü
R
K
Ç
E





5. Aşağıdakilerden hangisi hayal ürünü değildir?

- A) Yere düşünce kırılan bardağın canı acıdı.
- B) Yaptığım uçaklar sevinç içinde uçuyordu.
- C) Güneş, gülümseyen bir yüzle bize selam verdi.
- D) Bu yıl iki ton balık yakaladılar.

E
Ç
K
R
Ü
T

6. Aşağıdakilerden hangisinde duygusal bir ifade vardır?

- A) Çalışkan olduğum için ödüllendirildim.
- B) Yere düşünce dizinden yaralanmış.
- C) Ödevlerimi yapmadığımı duyunca annem çok üzüldü.
- D) Planlı çalıştığım için daha başarılıyım.

E
Ç
K
R
Ü
T

E
Ç
K
R
Ü
T

7. I) Hasan da Mustafa kadar çalışkandı.
II) Elma, portakal gibi faydalıdır.
III) Bu soru da diğerlerine benzemiyordu.
IV) Çok koştuğum için terledim.

Yukarıdaki cümlelerin hangisinde karşılaştırma yapılmamıştır?

- A) I
- B) II
- C) III
- D) IV

8. "Elindeki telefon düşünce telefonun camı kırıldı." cümlesindeki "kırılmak" kelimesi aşağıdaki cümlelerin hangisinde farklı anlamda kullanılmıştır?

- A) Aramadığım için bana çok kırılmış.
- B) Fırtınadan dolayı ağaçların dalı kırılmış.
- C) Sandalyenin ayağı kırılmış.
- D) Devrilen vazo kırılmış.





9. Aşağıdaki cümlelerin hangisinde sebep-sonuç ilişkisi vardır?

- A) Dinlenmek için köyüne gitti.
- B) Hava sıcak olduğu için evden çıkmadı.
- C) Kartopu oynamak için arkadaşlarıyla parka gitti.
- D) İngilizce öğrenmek için buraya geldim.

E
Ç
K
R
Ü
T
E
Ç
K
R
Ü
T

10. Hükümdar konuşmasına sarayda devam etti. Sizlere verdiğim çiçek tohumları, sıcak suyla pışırılmış tohumlardı. Bundan dolayı büyümesi mümkün değildi. Sizler, benim verdiğim tohumlar büyümeyince yeni bir tohum ektiniz. Sadece arkadaşınız verdiğim tohumu çıkmasına rağmen bana getirdi.

Yukarıdaki metinde hikayenin hangi unsuruna yer verilmemiştir?

- A) Zaman
- B) Olay
- C) Olayın geçtiği yer
- D) Kişi



11. Bireysel ihtiyaç listesinde kitap okumanın yeri 235. sırada yer alıyor. İnternete bağlı kalma süresi yaklaşık 3 saat, televizyon izleme süresi yaklaşık 6 saat olarak açıklandı. Aynı araştırmaya göre Türkiye’de kişi başına yıllık 72 kitap, günlük 7 dakika kitap okunduğu açıklanıyor. Dünya genelinde kitap okuma alışkanlığımızın artması dileğiyle.

Yukarıdaki paragrafın konusu nedir?

- A) İnternetin eğitime katkısı
- B) Bireysel ihtiyaç listesi
- C) Kitap okuma alışkanlığımız
- D) Televizyondaki başarılı diziler

12. Gemici hikayelerini dinlerken, Sahile vuran dalgalara, Yeniden dönmek isteyeceksin. Dalgaların sesini duyacaksın içinde. Damarlarına kadar huzur dolacak.

Yukarıdaki şiirin ana duygusu nedir?

- A) Hikaye dinlemenin önemi
- B) Deniz özlemi
- C) Bahar özlemi
- D) Yalnız kalma arzusu





13. Aşağıdaki cümlelerin hangisinde boş bırakılan yere farklı düşünmeye yönlendiren "fakat" sözcüğü yazılamaz?

- A) Bahçeye indim bahçede yoktu.
- B) Pikniğe gidecektik sokağa çıkma yasağı vardı.
- C) Çok yürüdüm yorulmadım.
- D) Şehre kar yağdı yollar kapandı.

E
Ç
K
R
Ü
T

14. Durakta otobüs bekliyordum. Bir süre sonra otobüs geldi. Otobüsten inen bir genç elindeki su şişesini yere atıverdi. Gence attıklarının çevre kirliliğine sebep olacağını ve yerden alması gerektiğini söyledim. Yaptığı davranışın yanlış olduğunu anlayan genç, su şişesini yerden alıp benden özür diledi. Amacına ulaşan bir insan olarak ben de oradan huzurla ayrıldım.

Yukarıdaki metnin ana fikri aşağıdakilerden hangisidir?

- A) Çevre bilinci kazanmanın önemi.
- B) Öğüt vermek gençler tarafından sevilmez.
- C) Yapmadığımız şeyleri başkasına söylememeliyiz.
- D) Gençler aile büyüklerini örnek alır.

E
Ç
K
R
Ü
T

E
Ç
K
R
Ü
T

15. Aşağıdaki cümlelerin hangisinde altı çizili sözcüğün yazımında yanlışlık vardır?

- A) Kardeşimin Pamuk adında bir kedisi var.
- B) Marmara Bölgesi ülkemizin en kalabalık bölgesidir.
- C) Ben, "Otuz Beş Yaş" şiirini ezberledim.
- D) Sınıfta almancayı en iyi konuşan bendim.

16. Ahmet Bey() Halit()i çağırır mısınız()

Bu metinde ayrıca gösterilen yerlere sırasıyla aşağıdaki noktalama işaretlerinden hangileri getirilmelidir?

- A) (!) (,) (.)
- B) (!) (') (?)
- C) (,) (!) (?)
- D) (,) (,) (.)





17. 1. Teker teker çiçekleri toprağından çıkardı.
2. Çiçeklerin toprağını değıştirmek için balkona çıktı.
3. Çalan telefonun sesiyle işini yarım bırakıp salona yöneldi.
4. Sabah erken kalktı.

Yukarıdaki cümlelerin oluş sırasına göre sıralanışı nasıl olmalıdır?

- A) 1 – 4 – 2 – 3
B) 4 – 2 – 1 – 3
C) 4 – 1 – 3 – 2
D) 1 – 2 – 3 – 4

18. "Burnundan solumak" deyiminin anlamı aşağıdakilerden hangisidir?

- A) Sır tutamamak
B) Nefes vermek
C) Heyecanlanmak
D) Sinirlenmek, öfkelenmek

E
Ç
K
R
Ü
T

E
Ç
K
R
Ü
T

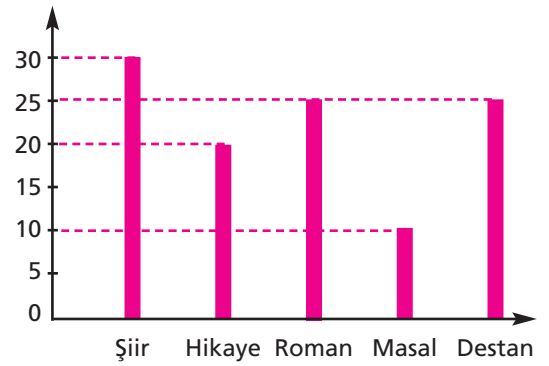
E
Ç
K
R
Ü
T



19. Aşağıdaki altı çizili sözcüklerden hangisi terim anlamında kullanılmıştır?

- A) Çantasında kitap, kalem ve silgi vardı.
B) Tatlı söz yılanı deliğinden çıkarır.
C) Eskiyen perdeyi çıkarıp yenisini taktılar.
D) Saz çalarken notalara çok dikkat etmeliyiz.

20.



Yukarıdaki grafikte okul kütüphanesinden alınan kitap sayıları gösterilmiştir.

Grafığe göre aşağıdaki ifadelerden hangisi yanlıştır?

- A) Şiir kitabı okuyanların sayısı diğer kitap çeşitlerinden fazladır.
B) Masal ve hikaye türü kitapları okuyanların toplamı şiir okuyanların toplamına eşittir.
C) En az okunan kitap türü masal, en çok okunan kitap türü romandır.
D) Destan ve roman türünü okuyanların sayısı eşittir.





1.



Arda'nın telefonunda kullandığı tarife yukarıda verilmiştir.

Arda; 248 dk daha konuşur, 362 kısa mesaj daha atar ve 3 GB daha internet kullanırsa tüm hakları biter.

Bu bilgilere göre aşağıdaki yorumlardan hangisi yapılamaz?

- A) Arda şu ana kadar, 2GB internet kullanmıştır.
- B) Arda şu ana kadar 752 dakika konuşma yapmıştır.
- C) Arda'nın tarifesi 59 TL dir.
- D) Arda şu ana kadar 638 kısa mesaj göndermiştir.

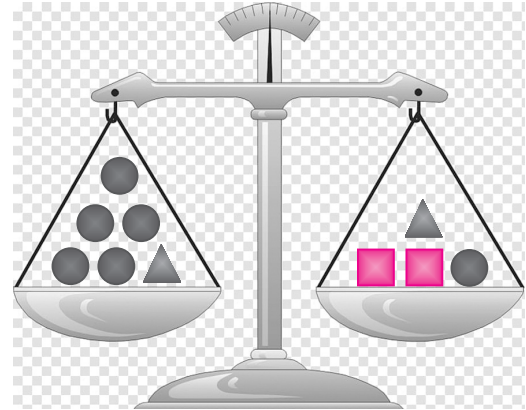
2.

X	A	30	50
50	1000	1500	C
100	2000	B	4000

Yukarıdaki tabloda yapılan çarpma işlemlerine göre "A + B + C" işleminin sonucu kaçtır?

- A) 5500
- B) 5510
- C) 5520
- D) 5530

3.



▲ = 8 kg

■ = 10 kg

Yukarıda verilen terazi dengede olduğuna göre "●" ile gösterilen ağırlık kaç kilogramdır?

- A) 5
- B) 6
- C) 7
- D) 8

M A T E M A T İ K

M A T E M A T İ K

M A T E M A T İ K





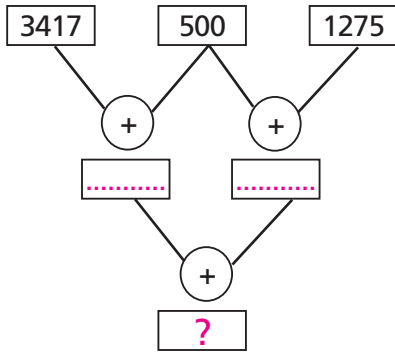
4.

$$\begin{array}{r} 5898 \\ + 900 \\ \hline \end{array}$$

Yukarıda verilen toplama işleminin sonucu kaçtır?

- A) 6790
- B) 6798
- C) 9800
- D) 6898

5.



Yukarıda verilen şemada "?" ile gösterilen yere hangi sayı yazılmalıdır?

- A) 5092
- B) 5192
- C) 5692
- D) 5962

6.

I. $24 \times 15 = 360$

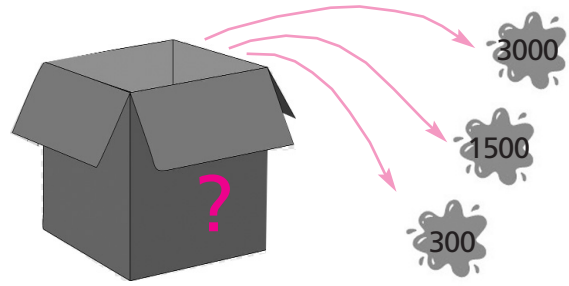
II. $15 \times 8 = 120$

III. $45 \times 12 = 540$

Yukarıdaki çarpma işlemlerinden hangileri doğrudur?

- A) Yalnız I
- B) Yalnız II
- C) II ve III
- D) I, II ve III

7.



Yukarıda verilen kutunun içindeki sayı 5, 25 ve 50 ile ayrı ayrı çarpılınca yanda verilen sayılar elde ediliyor.

Buna göre kutunun içindeki sayı aşağıdakilerden hangisidir?

- A) 12
- B) 25
- C) 44
- D) 60

M A T E M A T İ K

M A T E M A T İ K

M A T E M A T İ K





8.

$$\begin{array}{r} \star 2 \\ \times \bullet 3 \\ \hline 126 \\ + 210 \\ \hline 2226 \end{array}$$

Yukarıdaki çarpma işlemine göre $\star + \bullet$ toplamı kaçtır?

- A) 10 B) 9
C) 8 D) 7

9.

$$\begin{array}{r} 646A \\ - 5B8 \\ \hline 5891 \end{array}$$

Yukarıda verilen çıkarma işleminde **A** ve **B** kaçtır?



- A) $A = 5, B = 8$
B) $A = 7, B = 9$
C) $A = 9, B = 7$
D) $A = 9, B = 8$

10.

8	1	6
0	7	2

872016 sayısının rakamları tabloya şekildeki gibi yerleştirilmiştir. Bu sayının binler bölüğündeki sayılar siyaha, birler bölüğündeki sayılar ise kırmızıya boyanıyor.

Buna göre kutunun son görünümü aşağıdakilerden hangisidir?



M A T E M A T İ K

M A T E M A T İ K

M A T E M A T İ K









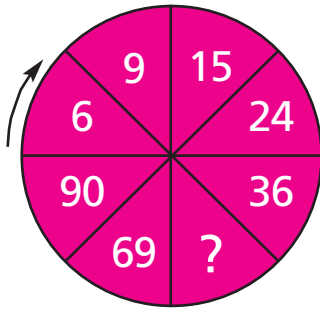
11.



Yukarıdaki örüntüye göre beşinci sıraya aşağıdaki şekillerden hangisi gelmelidir?

- A)  B) 
- C)  D) 

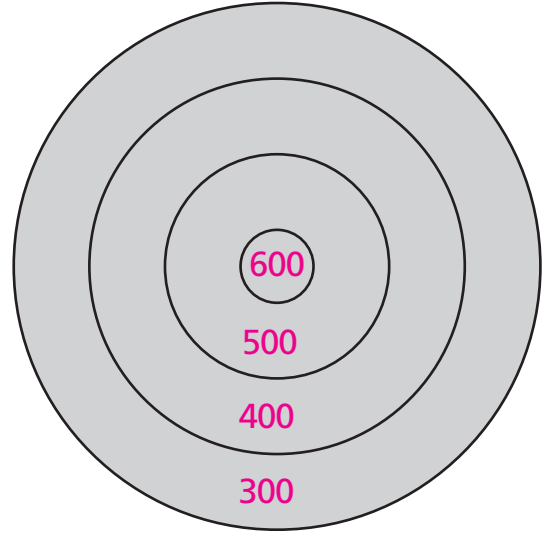
12.



Yukarıdaki örüntüde “?” yerine hangi sayı yazılmalıdır?

- A) 51 B) 50
C) 49 D) 48

13.



Dart oyunu oynayan Ece ve Rabia'nın isabet ettirdiği halkalar aşağıda verilmiştir.

Rabia, önce en dıştan bir önceki halkayı, sonra en içteki halkayı isabet ettirmiştir. Ece ise önce en içteki halkayı, sonra ise 500 puanın bulunduğu halkayı isabet ettirmiştir.

Buna göre Rabia ve Ece'nin aldığı puanların toplamı hangi seçenekte doğru verilmiştir?

- A) 2000 B) 2100
C) 2200 D) 2300

M A T E M A T İ K

M A T E M A T İ K

M A T E M A T İ K





14.

$$\begin{array}{r} K K K K K \\ K K K K \\ K K K \\ K K \\ K \\ + \\ \hline 61725 \end{array}$$

Yukarıda verilen toplama işlemine göre "K" kaçtır?

- A) 3 B) 4
C) 5 D) 6

15.

Mart	
Nisan	300
Mayıs	

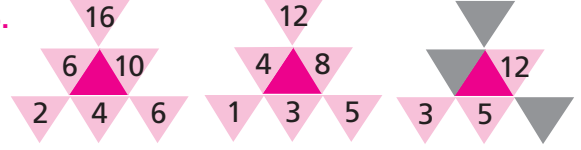
Yukarıdaki tabloda bir otelde Nisan ayında kalan kişi sayısı verilmiştir.

Mart ayında, Nisan ayında kalan kişilerin 2 katının 120 fazlası ve Mayıs ayında ise Nisan ayında kalan kişilerin 4 katı kadar kişi konaklanmıştır.

Buna göre bu otelde üç ayda toplam kaç kişi kalmıştır?

- A) 2450 B) 2400
C) 2250 D) 2220

16.



Yukarıdaki örüntülerde verilen sayıların diziliş kuralı aynıdır.

Buna göre gri renkle boyanmış yerlere gelecek sayıların küçükten büyüğe doğru sıralanışı aşağıdakilerden hangisidir?

- A) 7 – 8 – 20
B) 8 – 9 – 21
C) 9 – 10 – 22
D) 10 – 11 – 23

17.

$$\begin{array}{r} 2464 \\ \hline 14 \end{array}$$

Yukarıdaki bölme işleminin sonucu kaçtır?

- A) 144 B) 156
C) 176 D) 184

M A T E M A T İ K

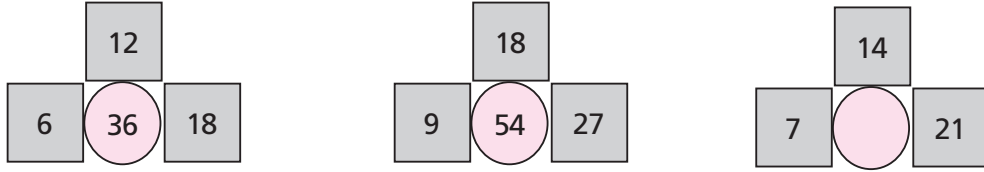
M A T E M A T İ K

M A T E M A T İ K





18.



Yukarıdaki örüntüde boş bırakılan bölüme hangi doğal sayı yazılmalıdır?

A) 42

B) 41

C) 40

D) 39



19.



Yukarıdaki şekilde bir trenin vagonlarında bulunan yük miktarları verilmiştir.

Bu trenin taşınması gereken toplam yük miktarı 9876 ton olduğuna göre tren ikinci seferinde kaç ton yük taşınmalıdır?

A) 3805

B) 3835

C) 3845

D) 3850





20.

$AB \uparrow CD$
A=1 B=2 C=3 D=4
 \uparrow = Toplama olduğundan
"12 + 34" olur.

$* \blacksquare \downarrow \blacktriangledown \bullet$
 $\bullet=5 \quad \blacktriangledown=6 \quad \blacksquare=7 \quad *=8$
 \downarrow = Çıkarma olduğundan
"87 - 65" olur.

$* A C \blacktriangledown \downarrow \bullet B \blacksquare D$
 $8136 - 5274 = 2862$ olur.

Yukarıda verilenlere göre $* \blacktriangledown D \downarrow (A \blacksquare C \uparrow \bullet B C)$ işleminin sonucu kaçtır?

A) 167

B) 168

C) 169

D) 170

*Matematik testini bitirdiniz.
Din Kültürü ve Ahlak Bilgisi testine geçiniz.*





1. Selamlaşma ile ilgili aşağıdakilerden hangisi yanlıştır?

- A) İletişimin ilk adıımıdır.
- B) İnsanlar arasında güvensizlik oluşturur.
- C) İyi niyet ve dostluk ifadesidir.
- D) Huzur ve güven ortamına katkı sağlar.

DİN KÜLTÜRÜ VE AHLAK BİLGİSİ

3. "Mekke şehrindeki Kâbe'yi ve civarındaki kutsal sayılan özel yerleri, özel vakit içinde usulüne uygun olarak ziyaret etmek ve yapılması gereken diğer görevleri yerine getirmek." şeklinde tanımlanan ibadet aşağıdakilerden hangisidir?

- A) Namaz
- B) Oruç
- C) Hac
- D) Zekat

DİN KÜLTÜRÜ VE AHLAK BİLGİSİ

2. Kur'an-ı Kerim'i başından sonuna kadar ezberleyen kimsedir.

Bu tanım aşağıdaki kavramlardan hangisinin tanımıdır?

- A) Hatim
- B) Mukabele
- C) Cüz
- D) Hafız

DİN KÜLTÜRÜ VE AHLAK BİLGİSİ

4. Aşağıdakilerden hangisi Kur'an-ı Kerim'e karşı görevlerimizden biri değildir?

- A) Kur'an-ı Kerim'i okumayı öğrenmeli ve ibadetlerimizi yerine getirecek kadar sure ezberlemeliyiz.
- B) Kur'an-ı Kerim'i okuyup anlamalı, emir ve yasaklarına uymalıyız.
- C) Kur'an-ı Kerim'i baştan sona ezberlemeliyiz.
- D) Kur'an-ı Kerim okunurken saygıyla dinlemeliyiz.





5. Allah gökleri gördüğünüz gibi direksiz yarattı. Yeryüzüne de sizi sarsmasın diye sabit dağlar yerleştirdi ve orada her türlü canlıyı yaydı." (Lokman suresi, 10. ayet)

Bu ayet, imanın şartlarından hangisi ile ilgilidir?

- A) Allah'a iman
- B) Meleklerle iman
- C) Peygamberlere iman
- D) Ahirete iman

6. Aşağıdakilerden hangisi dinimizce günah sayılan davranışlardandır?

- A) Yanlış bir davranış yapan kardeşimi güzel bir şekilde uyarmak.
- B) İstmeden bir şey kırdığımda dürüstçe anneme söylemek.
- C) Yolda gördüğüm arkadaşşıma güler yüzle selam vermek.
- D) Pazarda satış yaparken hileli satış yaparak insanları aldatmak.

DİN KÜLTÜRÜ VE AHLAK BİLGİSİ

DİN KÜLTÜRÜ VE AHLAK BİLGİSİ

DİN KÜLTÜRÜ VE AHLAK BİLGİSİ

7. Cami
Seccade
Ezan

Bu kavramlar aşağıdaki ibadetlerden hangisi ile ilgilidir?

- A) Namaz
- B) Oruç
- C) Hac
- D) Zekat

8. Dedesi Ahmet'ten su istemişti. Ahmet koşarak dedesine suyu getirdi. Dedesi suyu içmeye başlamadan önce ve içtikten sonra dudaklarını kıpırdatarak bir şeyler söyledi. Ahmet dedesinden bardağı aldı. Mutfağa giderken dedesinin ne söylemiş olabileceğini düşünüyordu.

Ahmet'in dedesi su içtikten sonra aşağıdaki ifadelerden hangisini söylemiştir?

- A) Estağfirullah
- B) Elhamdülillah
- C) Bismillah
- D) Sübhanallah





9. Peygamberlerle ilgili verilen aşağıdaki bilgilerden hangisi yanlıştır?

- A) Allah tarafından insanların arasından seçilmiştir.
- B) Allah'tan aldıkları mesajları insanlara değiştirmeden iletirler.
- C) Müslümanlar sadece Hz. Muhammed'in peygamberliğine inanırlar.
- D) İnsanlara rehberlik ederler, doğru ve yanlışları açıklarlar.

10. 1. Her güzel işe başlarken besmele çekmeliyiz.
2. Allah'ın en büyük olduğunu anlatan dini ifadeye salavat denir.
3. Yakını ölen kişiye ziyarete gidince "Allah şifa versin" denir.

Numaralandırılmış cümlelerden doğru olan aşağıdakilerden hangisidir?

- A) Yalnız 1
- B) Yalnız 2
- C) 1 ve 2
- D) 1 ve 3

DİN KÜLTÜRÜ VE AHLAK BİLGİSİ

DİN KÜLTÜRÜ VE AHLAK BİLGİSİ

DİN KÜLTÜRÜ VE AHLAK BİLGİSİ



11. Hümeýra yaz tatili boyunca hatim yapmaya karar verdi. Şu an Kur'an-ı Kerim'in 125. sayfasında. Kaçınıcı cüzde olduğunu merak etti ve cüz numarasına baktı.

Hümeýra şu an kaçınıcı cüzü okumaktadır?

- A) 5
- B) 6
- C) 7
- D) 8

12. Aşağıdaki cümlelerin hangisinde dilek ve dualarımızda kullandığımız dini ifadelere örnek yoktur?

- A) Maşallah ne kadar güzel gözlerin var.
- B) Pazartesi günü inşallah arkadaşlarımla buluşacağım.
- C) İki gündür hasta yatıyordum, elhamdülillah bu gün çok iyiyim.
- D) Çok çalışmalı ve hedeflediğim okulu kazanmalıyım.





13. Aşağıdaki ibadetlerden hangisi İslam'ın şartlarından biri değildir?

- A) Namaz kılmak
- B) Kurban kesmek
- C) Hacca gitmek
- D) Zekat vermek

14. ● Peygamberimize selam ve dua göndermek amacıyla söylenir.
● Peygamberimizin isminin geçtiği yerde söylenir.

Bu açıklamalar aşağıdaki dini ifadelerden hangisiyle ilgilidir?

- A) Salavat
- B) Kelime-i şehadet
- C) Tekbir
- D) Kelime-i tevhid

DİN KÜLTÜRÜ VE AHLAK BİLGİSİ

DİN KÜLTÜRÜ VE AHLAK BİLGİSİ

DİN KÜLTÜRÜ VE AHLAK BİLGİSİ



15. Cennet, huzur ve güven yurdu. Dünya hayatında Allah'a (c.c.) inanıp güzel işler yapanlar cennet yurdunda yaşayacaklardır. Cennete kavuşan insanlara melekler "... size selam olsun, tertemiz oldunuz, haydi ebedi kalmak üzere buraya girin" derler.
(Zümer suresi, 73. ayet)

Bu ayetten, imanın şartlarından hangisine ulaşamaz?

- A) Allah'a iman
- B) Peygamberlere iman
- C) Ahirete iman
- D) Meleklerle iman

16. (1) Kur'an-ı Kerim Müslümanların kutsal kitabının adıdır. (2) Allah tarafından vahiy yoluyla gönderilmiştir. (3) Kur'an-ı Kerim Peygamberimize tek seferde 610 yılında gönderilmiştir. (4) Peygamberimiz Allah'ın gönderdiği emir ve yasakları insanlara açıklamış, kendisi de uygulamıştır.

Bu paragrafta numaralandırılmış cümlelerin hangisinde yanlış bilgi vardır?

- A) 1
- B) 2
- C) 3
- D) 4





17. Aşağıdaki dua bölümlerinden hangisi Amentü duasından değildir?

- A) Ve kütübihi ve rusülihi
- B) Ve teala ceddük
- C) Ve bil kaderi hayrihi ve şerrihi
- D) Amentü billahi ve melaiketih

18. "Eşhedü en la ilahe illallah ve eşhedü enne Muhammeden abduhu ve resulüh" cümlesinin anlamı aşağıdakilerden hangisidir?

- A) Ben kabul ederim ki Allah'tan başka ilah yoktur, Hz. Muhammed (s.a.v.) Allah'ın kulu ve elçisidir.
- B) Ben kabul ederim ki Allah'tan başka ilah yoktur.
- C) Ben kabul ederim ki Hz. Muhammed Allah'ın kulu ve elçisidir.
- D) Ben kabul ederim ki Allah'tan başka ilah yoktur, Hz. Muhammed Allah'ın elçisidir.

DİN KÜLTÜRÜ VE AHLAK BİLGİSİ

DİN KÜLTÜRÜ VE AHLAK BİLGİSİ

DİN KÜLTÜRÜ VE AHLAK BİLGİSİ

19. Allah'tan af ve bağışlanma dileme ifadesidir. Hata yapan Müslümanlar pişmanlıklarını bu ifadeyle dile getirirler. Aynı hatayı bir daha yapmamaya söz verirler. "Allah'ım senden bağışlanmak istiyorum" diyerek O'nun affediciliğine sığınır.

Bu paragrafta açıklaması yapılan dini ifade aşağıdakilerden hangisidir?

- A) Subhanallah
- B) Elhamdülillah
- C) Maşallah
- D) Estağfirullah

20. Aşağıdakilerden hangisi haram olan davranışlardan değildir?

- A) Yalan söylemek
- B) Hırsızlık yapmak
- C) Cömert olmak
- D) İftira atmak





1. Aşağıdakilerden hangisinde mıknatıs "doğru" tanıtılmıştır?

- A) Suya atıldığında hemen batan maddelerdir.
- B) Altın, gümüş, bakır gibi sert maddelerden yapılmış cisimlerdir.
- C) Demir, nikel, kobalt gibi maddeleri çeken manyetik maddelerdir.
- D) Bütün maddelere itme ya da çekme kuvveti uygulayan cisimlerdir.

FEN BİLİMLERİ

3. I. Kayaç
II. Taş
III. Kum
IV. Kaya
V. Çakıl

Yukarıda verilen maddelerin boyut olarak büyükten küçüğe sıralanışı hangi seçenekte doğru olarak verilmiştir?

- A) I – V – IV – II – III
- B) IV – I – II – III – V
- C) I – IV – II – V – III
- D) IV – II – I – V – III

FEN BİLİMLERİ

2. Üzerinde yaşadığımız Dünya gezegeni, Güneş'in çevresinde kaç ayda dolanır?

- A) 7 ayda
- B) 12 ayda
- C) 30 ayda
- D) 52 ayda

FEN BİLİMLERİ

4. Kazı çalışmaları yapan Mehmet, kazı alanında bir insan, bir sinek, bir çömlek ve bir mamut kalıntısı bulmuştur.

Mehmet'in buldukları arasında hangisi fosil olarak kabul edilemez?

- A) Çömlek
- B) Mamut
- C) İnsan
- D) Sinek





5.



Resimdeki limon sıkılınca önceki haline gelemiyor. Bu, kuvvetin cisimler üzerindeki hangi etkisine örnektir?

- A) Şekil değiştirme
- B) Yavaşlama
- C) Hızlanma
- D) Duran cismi hareket ettirme

6. Bir futbolcu topa vurarak arkadaşına veriyor. Arkadaşı gelen topu durdurmadan başka bir arkadaşına veriyor. Bu durumda topun

- 1 hızı
- 2 yönü
- 3 rengi

özelliklerinden hangileri değişir?

- A) 1 ve 2
- B) 1 ve 3
- C) 2 ve 3
- D) 1, 2 ve 3

7.



Meral

Mıknatıs bir cismi çeki-yorsa, o cismin yapı-sında demir olma ihtimali vardır.



Erol

Yaklaştırılan iki mıknatısın N ve S kutupları birbirini iter.



Cem

Pusulanın yapısında mıknatıs vardır.



Elif

Mıknatısların çektiği metaller nikel, kobalt, çelik ve demirdir.

Mıknatısla ilgili hangi öğrencinin verdiği bilgide bir yanlışlık vardır?

- A) Meral
- B) Erol
- C) Cem
- D) Elif

FEN BİLİMLERİ

FEN BİLİMLERİ

FEN BİLİMLERİ





8. Dünya'nın yüzeyini tamamen kaplayan dağların, ovaların, deniz tabanlarının ve vadilerin oluşturduğu katman hangisidir?

- A) Stratosfer
- B) Yer kabuğu
- C) Su tabakası
- D) Hava tabakası

9. I. Muz
II. Un
III. Balık
IV. Yumurta
V. Limon

Yukarıda verilenlerden hangileri bitkisel besinlere örnektir?

- A) I, IV ve V
- B) I, II ve V
- C) I, II ve III
- D) II, III ve V

10. Aşağıdaki bilgilerden hangisi yanlıştır?

- A) Sigara içildiği ortamda bulunan herkese zarar verir.
- B) Alkollü araç kullanmak, trafik kazasına neden olabilir.
- C) Sigara tat ve koku alma duyumuzu engeller.
- D) Alkol bağımlılık yapan bir madde değildir.

11. Dengeli beslenen bir kişi verilen davranışlardan hangisini yapmaz?

- A) Sebze ve meyveleri yıkamadan yemez.
- B) Kızartma yağlarını sık sık değiştirir.
- C) Taze besinleri tüketir.
- D) Her sabah kahvaltısını yapmaz.

FEN BİLİMLERİ

FEN BİLİMLERİ

FEN BİLİMLERİ





12. Paraşütün aşağıya doğru yavaş inmesinin sebebi hangi seçenekte doğru verilmiştir?

- A) Havanın aşağıdan yukarı doğru paraşüte kuvvet uygulaması
- B) Paraşütle atlayan kişinin hafif olması
- C) Paraşütün motorlu olması
- D) Paraşütle atlayan kişinin paraşüte yukarı doğru bir kuvvet uygulaması

FEN BİLİMLERİ

13. Mıknatısın iki kutbu vardır. Bunların isimleri hangi seçenekte doğru verilmiştir?


- A) Doğu - Batı
- B) Kuzeydoğu - Güneydoğu
- C) Kuzey - Güney
- D) Kuzeybatı - Güneybatı

FEN BİLİMLERİ

FEN BİLİMLERİ

14. Havanın ve suyun "ısınmaya başladığı" toprak altındaki canlıların uyandığı mevsim hangisidir?

A)



Kış

B)



Yaz

C)



İlkbahar

D)



Sonbahar

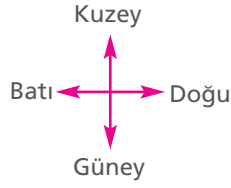




15.



Hareket yönü



Yukarıdaki görselde hareket yönü verilen topu hızlandırmak için hangi yönde kuvvet uygulamak gerekir?

- A) Kuzey
- B) Doğu
- C) Batı
- D) Güney

17. Dünya şeklindedir.

Dünya Güneş'in etrafında hareketi yapar.

Dünya saatte kendi eksenini etrafında dönüşünü tamamlar.

Yukarıda nokta ile belirtilen yerlere hangi sözcükler gelmelidir?

I	II	III
A) geoit	dolanma	24
B) elips	dolanma	12
C) geoit	dönme	12
D) elips	dönme	24

FEN BİLİMLERİ

FEN BİLİMLERİ

16. Aşağıdakilerden hangisi sağlığımızı olumsuz etkileyen bir davranış değildir?

- A) Son kullanma tarihi geçmiş ürünleri tüketmek.
- B) Sokakta satılan yiyecekleri tüketmek.
- C) Yiyecekleri buzdolabında saklamak.
- D) Yiyecekleri hızlı ve az çiğneyerek tüketmek.

FEN BİLİMLERİ

18.



Bir insanın kemik ve kaslarının sağlıklı olması için yukarıdaki besinlerden hangisine ihtiyaç yoktur?

- A) Süt ürünleri ve yumurta
- B) Meyveler
- C) Sebzeler
- D) Renkli şekerler





19. Atıştırma tabağı için menü hazırlayan Zehra Hanım aşağıdakilerden hangisini hazırlarsa yağ bakımından daha zengin bir menü hazırlamış olur?

A)

MENÜ

Yumurta
Tavuk
Yoğurt
Limon

B)

MENÜ

Muz
Çilek
Kivi
Kavun

C)

MENÜ

Fındık
Fıstık
Ceviz
Zeytin

D)

MENÜ

Domates
Salatalık
Peynir
Maydanoz

DİN KÜLTÜRÜ AHLAK BİLGİSİ

DİN KÜLTÜRÜ AHLAK BİLGİSİ

DİN KÜLTÜRÜ AHLAK BİLGİSİ

20.



I



II



III

Yukarıdaki görsellerde verilen mıknatısların birbirine karşı uyguladıkları kuvvet hangi seçenekte doğru verilmiştir?

	I	II	III
A) Çekme	İtme	İtme	İtme
B) İtme	Çekme	İtme	İtme
C) İtme	Çekme	Çekme	Çekme
D) Çekme	İtme	Çekme	Çekme



Fen Bilimleri testini bitirdiniz.
Sosyal Bilgiler testine geçiniz.





1. Yasin, yaşamındaki önemli olaylarla ilgili fotoğraflı bir zaman şeridi hazırlamıştır. Ancak kronolojik sıralamasında bir hata yapmıştır.

 <p>1</p>	 <p>2</p>
2010'da doğdum.	2012'de kardeşim doğdu.
 <p>3</p>	 <p>4</p>
Annnnee ...	
Bir yaşında konuşmaya başladım.	2015'te anaokuluna başladım.
 <p>5</p>	
	Üçüncü sınıfa giderken gitar kursuna başladım.

SOSYAL BİLGİLER

SOSYAL BİLGİLER

SOSYAL BİLGİLER

2. Kurtuluş Savaşı Dönemi'nde, Ankara Hükümeti'nin uluslararası alanda kazandığı ilk siyasi başarı aşağıdakilerden hangisidir?

- A) Gümrü Antlaşması
- B) Mondros Ateşkes Antlaşması
- C) Ankara Antlaşması
- D) Mudanya Ateşkes Antlaşması

3. Milli Mücadele Dönemi'nde Güney Cephesi'nde aşağıdakilerden hangisiyle savaşmıştır?

- A) Almanlar
- B) İngilizler
- C) Fransızlar
- D) Yunanlılar

4. İstanbul'a ait aşağıdaki unsurlardan hangisi doğaldır?

- A) İstanbul Surları
- B) Dolmabahçe Sarayı
- C) İstanbul Boğazı
- D) Fatih Sultan Mehmet Köprüsü

Yasin'in zaman şeridindeki sıralama-sının doğru olması için kaç numaralı olaylar yer değiştirmelidir?

- A) 1 ve 2
- B) 2 ve 3
- C) 3 ve 4
- D) 4 ve 5





5. Merhaba, ben Derya. 6 yaşından beri piyano çalıyorum. İlk duyduğum melodiye hemen çalabilirim. Amacım müzik alanında eğitim almak. Ayrıca şiir okumaktan ve dinlemekten hoşlanırım.

Buna göre Derya'nın sahip olduğu yetenek ve ilgi konusunda aşağıdakilerden hangisi söylenebilir?

- A) Derya bir çok alanda yeteneklidir.
B) Derya'nın yeteneği şiir okumadır.
C) Derya piyano çalmada yetenekli, şiir okumaya ise ilgilidir.
D) Derya hem şiir okuma hem de piyano çalmada yeteneklidir.

SOSYAL BİLGİLER

SOSYAL BİLGİLER

SOSYAL BİLGİLER

6. Olayların tanığı olan kişilerle yapılan söyleşilere dayanılarak yapılan araştırma türüne "sözlü tarih çalışması" denir. Ayhan Öğretmen, öğrencilerinden sözlü tarih çalışması yapmalarını istemiştir.





Buna göre, öğrencilerin sözlü tarih çalışmasında ilk yapmaları gereken aşağıdakilerden hangisidir?

- A) Görüşmenin yeri ve zamanının belirlenmesi
B) Görüşme yapılacak kişinin belirlenmesi
C) Görüşme kayıtlarının yazılı hale getirilmesi
D) Sorulacak soruların belirlenmesi



7. Sinan, yön bulma yöntemleri ile ilgili afiş çalışması yapacaktır.




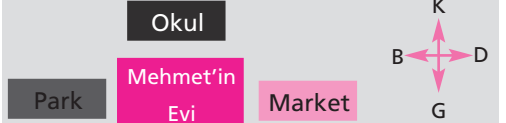
Buna göre Sinan, afiş çalışmasında aşağıdakilerden hangisini kullanamaz?

- A)  Pusula
B)  Karınca Yuvası
C)  Kutup Yıldızı
D)  Kuş Yuvası

8. Mehmet, evinin konumunu kroki çizerek göstermek istiyor. Evin konumuyla ilgili bilgiler aşağıda verilmiştir;

- Evi okulun kuzeyindedir.
- Evinin doğusunda park bulunmaktadır.
- Evinin batısında market vardır.

Bu bilgilere göre Mehmet'in evinin konumunu gösteren kroki aşağıdakilerden hangisidir?

- A) 
- B) 
- C) 
- D) 





9. Oyun, iki takım arasında bir top ve avuç içi büyüklüğündeki yassı kiremit parçalarıyla oynanır. Kiremit parçaları üst üste dizilir. Atışı yapacak takımın oyuncularından biri elindeki topu dört beş metre uzağa dizilmiş kiremitlere doğru yuvarlar.

Hakkında bilgi verilen geleneksel çocuk oyunumuz aşağıdakilerden hangisidir?

- A) Dokuz taş
- B) Aşık oyunu
- C) Saklambaç
- D) Topaç çevirme

10. Ekrem, üç günlük hava gözlemini aşağıda belirtmiştir:

Pazartesi hava parçalı bulutluydu.

Salı günü hava yağmurluydu

Çarşamba günü ise güneşliydi.

Üç günlük hava olaylarını grafik haline getiren Ekrem'in hava durum grafiği aşağıdakilerden hangisidir?

	Pazartesi	Salı	Çarşamba
A)			
B)			
C)			
D)			

11.

Kesin şu Fırat'ı bu yıl akmasının
Etrafına taşıp yakıp yıkmasının
Talihsiz babamı alıp gitmesin
Biricik yavruları yetim etmesin
Oy aman Fırat, zalimsin Fırat

Anonim

Yukarıda verilen anonim türküde, bahsedilen coğrafi unsur aşağıdakilerden hangisidir?

- A) Nehir
- B) Dağ
- C) Uçurum
- D) Deniz

SOSYAL BİLGİLER

SOSYAL BİLGİLER

12.



Yukarıdaki haritada Mustafa Kemal'in Milli Mücadele Dönemi'nde uğradığı iller sembollerle belirtilmiştir. Mustafa Kemal'in bu illerde yaptığı çalışmalar kronolojik olarak sıralanacaktır.

Buna göre bu illerin kronolojik olarak sıralanışı hangi seçenekte verilmiştir?

- A) ★ - ■ - ▲ - ● - ◆
- B) ● - ★ - ■ - ▲ - ◆
- C) ★ - ■ - ◆ - ▲ - ●
- D) ★ - ■ - ▲ - ◆ - ●





13. "Burhan, cebindeki harçlığı ile sinemaya gitti. Sinema çıkışı kitap alması gerektiğini hatırladı ancak hiç parası kalmamıştı.

Buna göre Burhan nerede hata yapmıştır?

- A) Sosyal ihtiyaçlarına öncelik vermemiştir.
B) Öncelikle temel ihtiyaçlarını karşılamıştır.
C) İhtiyaçlarını sırası ile karşılamamıştır.
D) İlk önce temel ihtiyacını karşılamıştır.

SOSYAL BİLGİLER

SOSYAL BİLGİLER

14. I. Fırında ekmeğin yapılması
II. Tarladan buğdayın toplanması
III. Buğdayın fabrikada un haline getirilmesi
IV. Ekmeklerin araçlarla marketlere taşınması
V. Ekmeklerin markette satışa sunulması

Yukarıdaki olayların oluş sırası nasıldır?

- A) II – III – I – IV - V
B) III – II – I – IV - V
C) II – III – I – V - IV
D) II – III – IV – I - V

SOSYAL BİLGİLER



15. Burada yörüklerle ait toprak ev var. Hamur tahtasında börek açan kadın, kilim dokuyan kız, ip eğiren erkek mankenleri sanki gerçek gibi duruyor. Cam bölmelerde aydınlatma araçları, bakır kap kacaklar sergileniyor.

Açıklamanın yapıldığı yer aşağıdakilerden hangisi olabilir?

- A) Etnografya Müzesi
B) Askeri Müze
C) Arkeoloji Müzesi
D) Bilim Müzesi

16. Türk halk bilgesidir. Yaşamıyla ilgili bilgiler yer yer olağanüstü nitelikler kazanmıştır. Anadolu halkının yaşamını alay ve eğlenme şeklini dile ettirmiştir. Tanık olduğu olaylar halk arasında geçer. Fıkralarında gülmece ile yergi unsuru yan yana bulunur.

Verilen bilgi aşağıdakilerden hangisine aittir?

- A) Yunus Emre
B) Nasreddin Hoca
C) Mevlana
D) Aşık Veysel





17. Mondros Ateşkes Antlaşması:

I. Dünya Savaşı sonunda Osmanlı Devleti'nin zor durumda kalmasıyla, İtilaf Devletleri tarafından çok ağır şartlarla hazırlandı. Özellikle Antlaşmanın 7. Maddesi Osmanlı Devleti topraklarını tamamen işgale açık hale getiriyordu.

Bu bilgiye göre aşağıdakilerden hangisi Mondros Ateşkes Antlaşması'nın olumsuz sonuçlarından değildir?

- A) Osmanlı topraklarını işgale açık hale getirmesi
- B) Vatanın bağımsızlığının ve bütünlüğünün sarsılması
- C) Osmanlı Devleti'nin kendi toprakları üzerinde hakimiyetinin kalmaması
- D) Halkın büyük tepkiyle işgallere karşı çıkıp topraklara sahip çıkmaya çalışması

18.



Mustafa Kemal Milli Mücadele'nin hazırlık döneminde haritada belirtilen şehirlerin hangisinde faaliyetlerde bulunmamıştır?

- A) İzmir
- B) Samsun
- C) Amasya
- D) Erzurum

19. TBMM tarafından Kurtuluş Savaşı'nda gösterdikleri başarılı mücadelelerinden dolayı Antep, Urfa ve Maraş'a çeşitli unvanlar verilmiştir.

Aşağıdakilerin hangisinde bu unvanlar sırasıyla yer alır?

- A) Kahraman, Şanlı, Gazi
- B) Gazi, Şanlı, Kahraman
- C) Şanlı, Gazi, Kahraman
- D) Şanlı, Kahraman, Gazi

20. Mondros Ateşkes Antlaşması'ndan sonra Güney Cephesi'ndeki

- I. Tayyar Rahmiye
- II. Sütçü İmam
- III. Ali Sahip Bey
- IV. Şahin Bey

gibi kahramanlar önemli başarılar gerçekleştirmiştir.

Bu kahramanların mücadele ettiği yerler aşağıdakilerden hangisinde doğru olarak verilmiştir?

- A) I Maraş – II Urfa – III Antep – IV Adana
- B) I Adana – II Antep – III Maraş – IV Urfa
- C) I Urfa – II Maraş – III Antep – IV Adana
- D) I Adana – II Maraş – III Urfa – IV Antep

SOSYAL BİLGİLER

SOSYAL BİLGİLER

SOSYAL BİLGİLER





ŞEHİT AHMET ÖZSOY KIZ ANADOLU İMAM HATİP LİSESİ
2020-2021 EĞİTİM ÖĞRETİM YILI İÇİN 5.SINIF SINAVI CEVAP ANAHTARI

SORULAR	DERSLER				
	TÜRKÇE	MATEMATİK	DİN	FEN	SOSYAL
1	D	C	B	C	B
2	A	C	D	B	A
3	D	A	C	C	C
4	C	B	C	A	C
5	D	C	A	A	C
6	C	D	D	A	B
7	D	D	A	B	D
8	A	B	B	B	B
9	B	C	C	B	İPTAL
10	A	C	A	D	C
11	C	C	C	D	A
12	B	A	D	A	D
13	D	B	B	C	C
14	A	C	A	C	A
15	D	D	B	B	A
16	B	A	C	C	B
17	B	C	B	A	D
18	D	A	A	D	A
19	D	D	D	C	B
20	C	B	C	D	D

**Sosyal Bilgiler dersi 9.sorunun doğru cevabı şıklar arasında yer
almadığından iptal edilmiştir. Bu soruda herkesin cevabı doğru kabul
edilecektir.**